

Drogi Uczniu,

masz przed sobą niezwykłą przygodę. Jeszcze raz zabieram Cię do w podróż „Przez lądy i oceany na Ziemi”.

Z wykorzystaniem zasobów wydawnictwa „Nowa Era” przygotowałem dla Ciebie test, który pozwoli utrwalić Ci przerobiony materiał.

Oprócz typowych zadań (zamieszczam je poniżej!) proponuję Ci dodatkową lekcję z zasobami internetu.

Mało czasu mieliśmy na temat związany z podróżami geograficznymi. Mam nadzieję, że teraz zaspokoję Twoją ciekawość. Wybrałem dla Ciebie materiał dźwiękowy (tzw. sluchowisko”) pod tytułem „Nowy Świat”. I od tego proponuję zacząć naszą przygodę. Po wysłuchaniu rozmowy syna z matką uzupełnij tekst, który również poniżej zamieszczam.

Kliknięcie linku przeniesie Cię do interaktywnej mapy. Mam nadzieję, że będzie to miła dla Ciebie niespodzianka.

<https://learningapps.org/view1262706>

Dla chętnych

Drodzy Uczniowie,

przekazuję za pośrednictwem aplikacji QUIZIZZ test dotyczący omawianych zagadnień. Mam nadzieję, że rozwiązywaniu będą towarzyszyły pozytywne emocje. Zdaję sobie sprawę z faktu, że nie wszystkim uda się sprostać wyzwaniu, ponieważ możecie mieć kłopoty z logowaniem. Ale do odważnych świat należy. Trzymam kciuki.

Rozumiem również Wasz stres wynikający z nieco innej formy nauki. I dlatego proszę potraktować niniejsze działanie jako próbę techniczną. Życzę Wam owocnych chwil z aplikacją QUIZIZZ. Poniżej udostępniam dane do logowania.

Kliknij link

www.quizizz.com/join?gc=035493

lub

Otwórz

joinmyquiz.com

i wprowadź ten kod

0 3 5 4 9 3

Z wyrazami serdeczności

Wasz nauczyciel – Artur Becher

TEST



Podróże geograficzne

**Nowy Świat – materiał dźwiękowy w osobnym pliku:
geografia_klasa_V_nowy_swiat_material_1**

Po wysłuchaniu materiału, wpisz prawidłową odpowiedź.

W 1492 Krzysztof Kolumb odkrył:

W latach 1497-1504 Amerigo Vespucci dotarł do:

Vasco da Gama podróżował w latach 1497-98 i dotarł do Przylądka Dobrej Nadziei, odkrytego przez Bartolomeu Diaza. Stąd pożegłował Oceanem Indyjskim docierając do wybrzeża Indii w pobliżu miasta Kalikat. Wskutek tej wyprawy:

w 1519 roku poprowadził wyprawę do Wysp Korzennych, dopłynął do wybrzeża Ameryki Południowej i Filipin. Jego podróż stała się znana jako pierwsza wyprawa dookoła świata. Dzięki niej potwierdziło się, że Ziemia jest kulista i większa niż sądzono.

Benedykt Dybowski zbadał faunę i klimat:

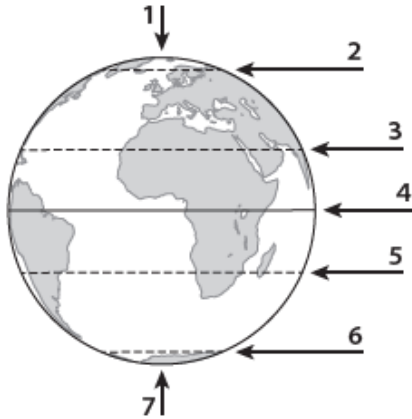
W 1897 roku Henryk Arctowski został kierownikiem naukowym pierwszej międzynarodowej wyprawy polarnej. Polska stacja polarna jego imienia powstała:

Jednym z najwybitniejszych żyjących obecnie polskich podróżników i odkrywców jest Jacek Pałkiewicz. W 1996 roku odkrył:

TEST

Lądy i oceany na Ziemi

1. Na rysunku cyframi od 1 do 7 oznaczono ważne punkty oraz wybrane elementy siatki geograficznej. Rozpoznaj je na podstawie opisu. Wpisz do tabeli odpowiednie nazwy oraz cyfry, którymi te elementy zostały oznaczone na rysunku.



Opis	Nazwa linii lub punktu	Cyfra na rysunku
Najdłuższy równoleżnik. Dzieli kulę ziemską na półkulę północną i półkulę południową.		
Zwrotnik leżący na półkuli południowej.		
Miejsce, w którym oś ziemską przecina półkulę północną.		

2. Skreśl niewłaściwe wyrazy tak, aby podane informacje były prawdziwe.

Południki to linie łączące **bieguny Ziemi / oś ziemską z biegunem**. W miarę oddalania się od równika długość równoleżników **maleje / rośnie**. Południki i równoleżniki na mapie tworzą siatkę **geograficzną / kartograficzną**.

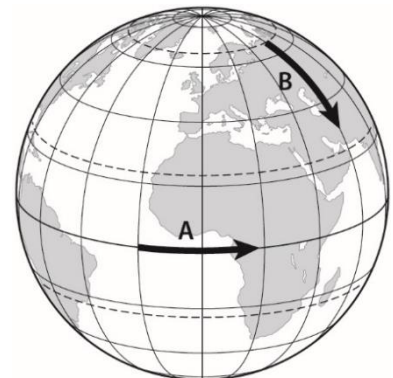
3. Na rysunku strzałkami oznaczono przemieszczające się punkty A i B. Wybierz właściwe spośród podanych nazw kierunków głównych i wpisz je w odpowiednie miejsca.

0–2 p.

▪ *północ* ▪ *południe* ▪ *wschód* ▪ *zachód*

A. Punkt A przemieszcza się na

B. Punkt B przemieszcza się na



4. Wpisz na podstawie mapy nazwy trzech kontynentów, które przecina południk zerowy (0°).

0–2 p.



1.
2.
3.

TEST

5. Podaj nazwy opisanych kontynentów i oceanów. Skorzystaj z zamieszczonej mapy.

A. Kontynent o najmniejszej powierzchni. Leży wyłącznie na półkuli południowej (S) i półkuli wschodniej (E).

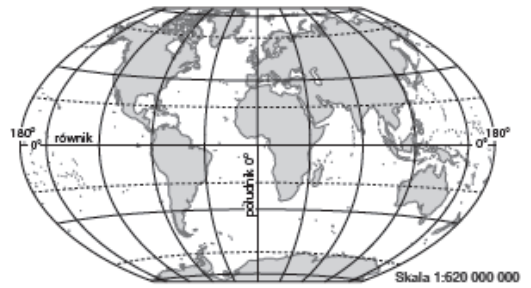
.....

B. Drugi pod względem powierzchni kontynent na Ziemi. Leży na półkulach: południowej (S), północnej (N), wschodniej (E) i zachodniej (W).

.....

C. Ocean o najmniejszej powierzchni. Leży na nim jeden z biegunów

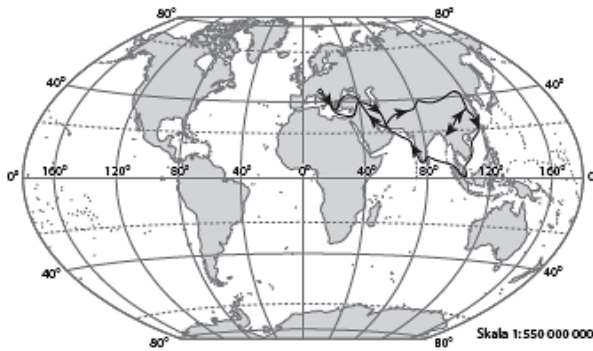
D. Ocean, który oddziela Amerykę Południową od Afryki.



6. Dopasuj do przedstawionych na mapach tras wypraw geograficznych nazwiska odkrywców oraz obiekty geograficzne. Wybierz nazwy spośród podanych.

Odkrywczy ■ *Ferdynand Magellan* ■ *Marco Polo* ■ *James Cook*

Obiekty geograficzne ■ *Nowa Zelandia* ■ *południowe krańce Ameryki Południowej* ■ *góry Pamir*

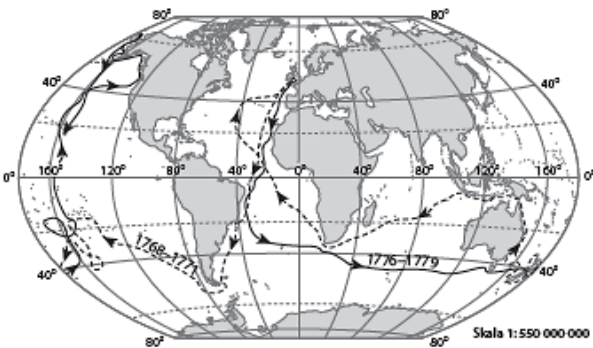


A. Odkrywca:

Obiekt geograficzny:

B. Odkrywca:

Obiekt geograficzny:



C. Odkrywca:

Obiekt geograficzny: