

08.04.2020 r. (środa)

**Zadania na dzisiaj:**

**Temat: Wielkanocne tradycje**


Dodawanie i odejmowanie w zakresie 1000- rozwiązywanie zadań tekstowych.

Cele: - poćwiczysz dodawanie i odejmowanie w zakresie 1000,  
- zagrasz z komputerem w grę planszową.


**Polecenia:**

1. Zadania rozwiąż w zeszyście.

**Pomyślę i rozwiążę**

























**1.** W zawodach sportowych uczestniczyły rodziny, w każdej z nich był tata, mama i dzieci. Rodziny z trójką dzieci liczyły 80 osób, a te z dwójką dzieci liczyły 60 osób.



- Wskaż, które pytania możesz zadać do tego zadania. Rozwiąż zadanie w zeszyście.
  - Ile rodzin z dwójką dzieci uczestniczyło w zawodach?
  - O ile więcej dziewczynek niż chłopców było w tych rodzinach?
  - Ile rodzin z trójką dzieci uczestniczyło w zawodach?
  - Ile wszystkich rodzin uczestniczyło w zawodach?
  - Ilu było chłopców?
- ★ • Kto zajął pierwsze, kto drugie, a kto trzecie miejsce? Leon skoczył w dal 2 metry 70 cm i jego skok był dłuższy o 400 mm od skoku Patryka. Szymon skoczył o 300 mm bliżej niż Leon.

**2.** Pod takimi samymi figurami ukryły się takie same liczby. Jakie to liczby? Dobierz je tak, żeby działania były poprawne. Działania zapisz w zeszyście.

	+		=	400				
	+		+		=		+	
	+		+		=			
	+		=					
	-		=					

	=	?
	=	?
	=	?
	=	?
	=	?

32

2. Zagraj w grę planszową z komputerem i zdobądź :



[https://zasobyip2.ore.edu.pl/uploads/publications/49a555275e0d0f828e4812833ac09c7c\\_/index.html](https://zasobyip2.ore.edu.pl/uploads/publications/49a555275e0d0f828e4812833ac09c7c_/index.html)

Powodzenie ☺