

Witajcie!

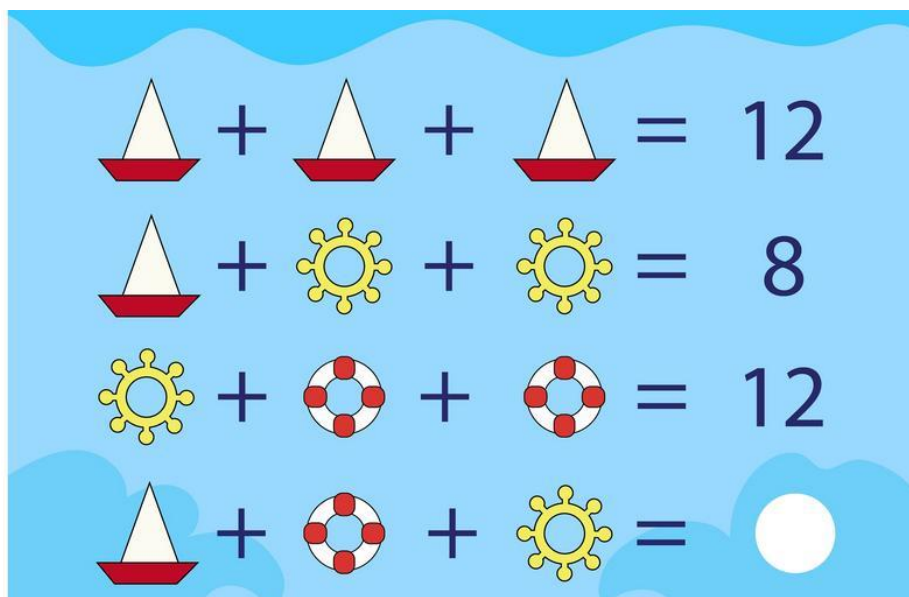
Dzisiaj pięć zagadek. Napisz, czy sprawiły Ci trudność, czy bez problemu poradziłeś(aś) sobie z nimi.

21.04.2020

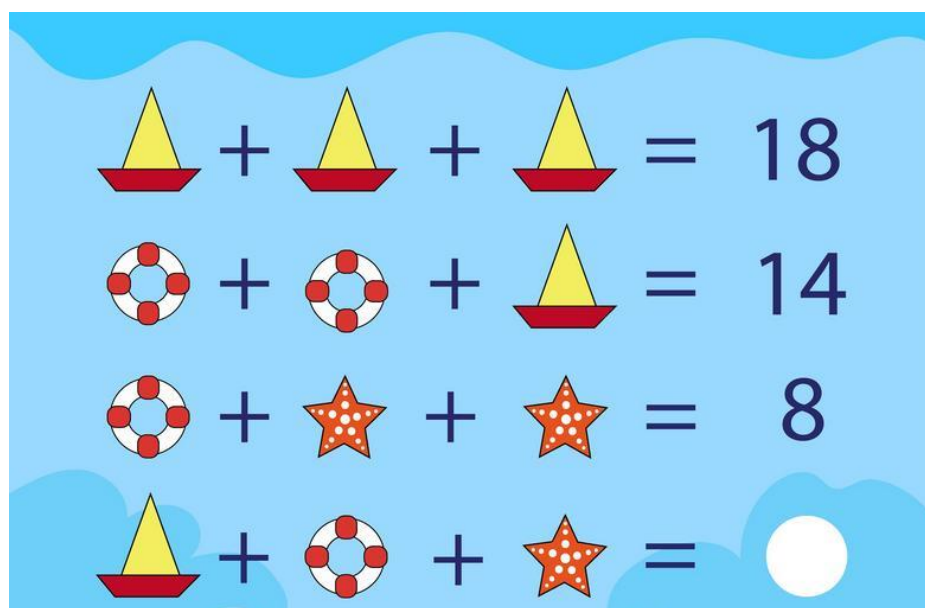
Z a g a d k i m a t e m a t y c z n e

1. Jeśli troje dzieci i ich trzy psy nie znajdowało się pod parasolem, to jak to się stało, że żadne z nich nie zmokło?
2. Spraw, aby dana równość stała się prawdziwa. Możesz dodać jedynie 1 kreskę. Nie wolno przekreślić znaku równości: $5+5+5=550$.
3. Baw się i obliczaj. Czy znasz wynik tego równania?

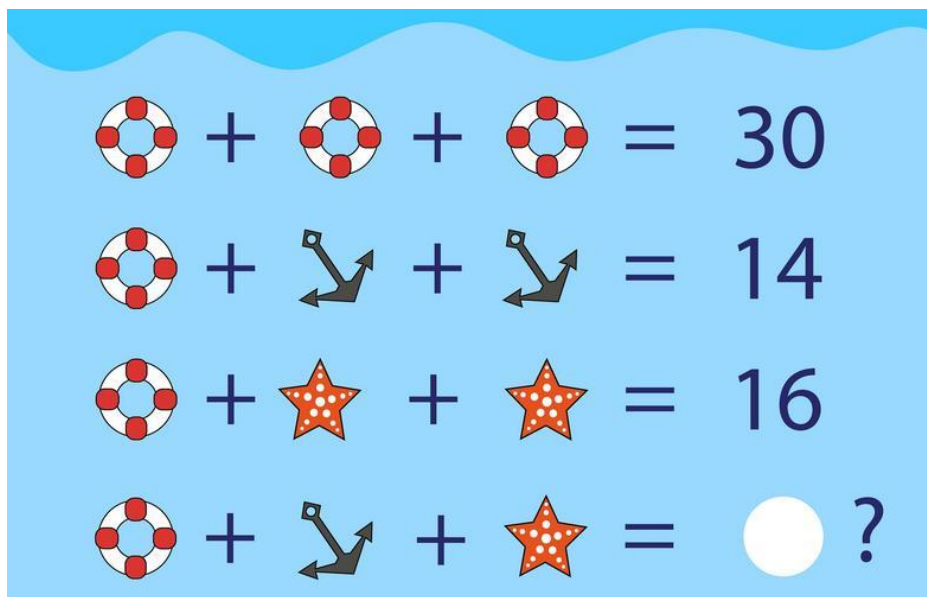
I.



II.



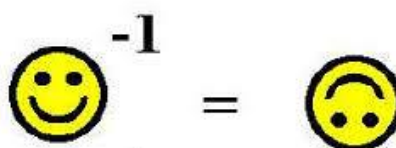
III.



Rozwiązania zagadek **wyślij** wiadomością na adres e-mail: becherk69@gmail.com.

WYKORZYSTANE ZASOBY

- 1) <https://www.youtube.com/>
- 2) <http://maga.witrynaszkolna.pl/strona=logiczne>
- 3) <https://facet.onet.pl/zagadki-logiczne-z-matematyki/dtpzcl4>



Matematyczny uśmiech

Powodzenia!
Katarzyna Becher