

Temat: Warsztat muzyczny. Rytmiczne zabawy.

Wykonaj zadania i prześlij je nauczycielowi na adres lotysta@wp.pl do dnia 20.05.2020r.

1. Wpisz w wyznaczone miejsca odpowiednie wartości rytmiczne.


- Jedna półnuta trwa tyle, ile cztery _____ lub dwie _____.
- Jedna ćwierćnuta trwa tyle, ile dwie _____.
- Dwie ćwierćnuty trwają tyle, ile jedna _____.
- Osiem ósemek trwa tyle, ile jedna _____ lub dwie _____.
- Cztery szesnastki trwają tyle, ile jedna _____.


2. Zapisz rytm zgodnie z podanymi sylabami. Następnie odczytaj go za pomocą taitajacji i wyklaszcz.

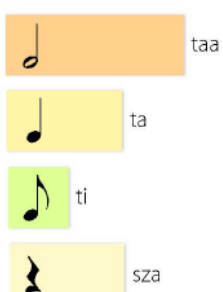
$\frac{4}{4}$ taa ta ta | ta ti ti ta ta | ta ta ta ti ti | taa ta sza ||

$\frac{4}{4}$ | | | ||

3. Podpisz nuty sylabami rytmicznymi i odczytajrytmy za pomocą taitajacji.

$\frac{2}{4}$  ||

$\frac{3}{4}$  ||



4. W wyznaczone miejsca wstaw właściwe wyrazy z ramki.

tańce, piosenki, dwuczęściową

- Forma AB jest formą _____.
- Formę AB mają najczęściej _____ i _____.

5. Odgadnij hasła i uzupełnij rymowankę za pomocą liter z oznaczonych pól.

•W piosence, oprócz refrenu.

	9	13				15
--	---	----	--	--	--	----

•Twórca muzyki.

		14			6		10		11
--	--	----	--	--	---	--	----	--	----

•Zapisuje się na niej nuty.

		7							8	
--	--	---	--	--	--	--	--	--	---	--

•W piosence powtarza się co pewien czas.

		12	4		
--	--	----	---	--	--

•Służą do zapisywania muzyki.

5			2
---	--	--	---

•Używamy go do mówienia i śpiewania.

1			3
---	--	--	---

1	D	2	3	A	4	Ó	Ż	5	E	
C	6	7	Ś	C	8	D	9	I	E	,
U	10	W	Ó	11	12	O	13	M	E	z
14	A	15	B	!						