

19.05.2020 r. (wtorek)

Temat dnia: Wycieczka w góry

Ćwiczenia w mnożeniu i dzieleniu liczb przez 10 w zakresie 1000.

Cele:

- poćwiczysz mnożenie i dzielenie liczb przez 10.

Polecenia:

Zapamiętaj!
1cm=10mm


Obliczenia wykonaj w zeszycie.


1. Odczytaj z ilustracji ceny gier.




Do świetlicy szkolnej zakupiono po 10 gier każdego rodzaju.

Ile zapłacono za każdy rodzaj gry?

 $1 \cdot 16 = 16$ 10 to 1 dziesiątka $10 \cdot 16 = 160$

 $1 \cdot 17 = 17$ 10 to 1 dziesiątka $10 \cdot 17 = \boxed{?}$

 $1 \cdot 19 = 19$ 10 to 1 dziesiątka $10 \cdot 19 = \boxed{?}$

2. Dziadek Jasia wyjechał samochodem na dwutygodniowe wczasy. Doba parkowania samochodu na parkingu przy domu wczasowym kosztowała 10 zł. Ile kosztował parking podczas całego pobytu dziadka na wczasach?

3. Na uszycie takiej flagi potrzeba 10 metrów materiału.

Ile flag można uszyć ze 120 metrów materiału?

$120 : 10 = \boxed{?}$ bo $\boxed{?} \cdot 10 = 120$



4. Ile to milimetrów?

6 cm = $\boxed{?}$ mm

10 cm = $\boxed{?}$ mm

12 cm = $\boxed{?}$ mm

36 cm = $\boxed{?}$ mm

Ile to centymetrów?

50 mm = $\boxed{?}$ cm

160 mm = $\boxed{?}$ cm

380 mm = $\boxed{?}$ cm

520 mm = $\boxed{?}$ cm

Powodzenia ☺