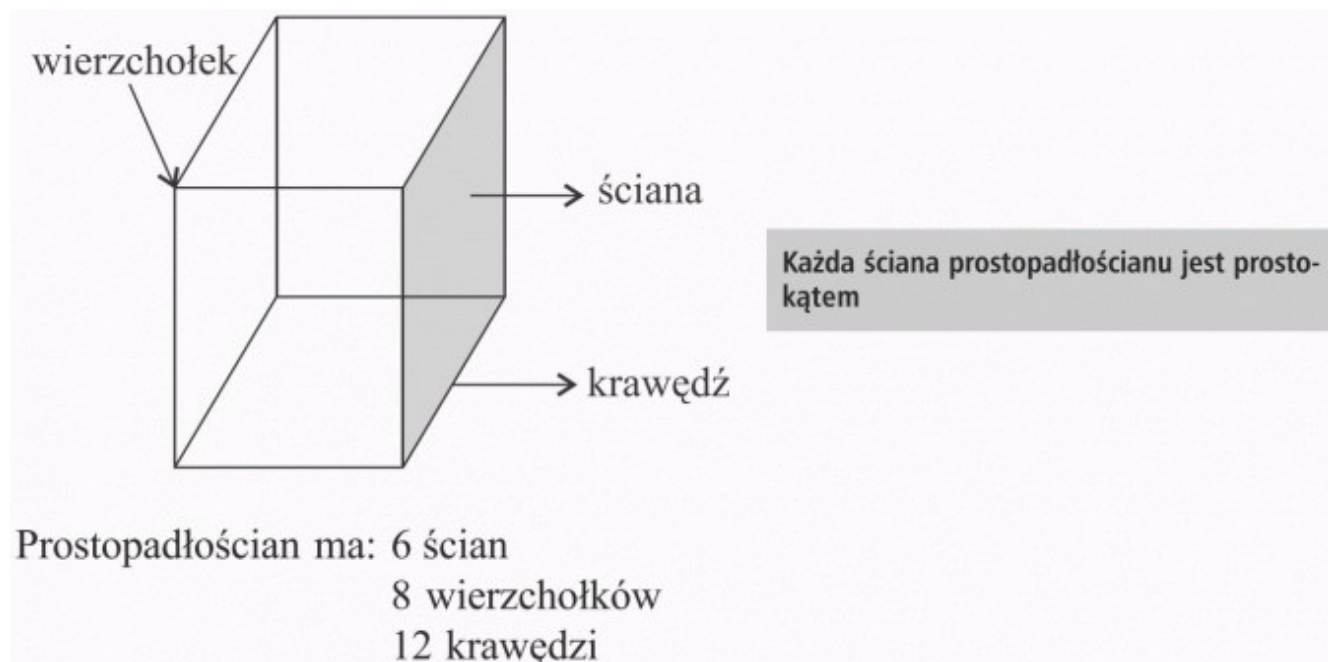


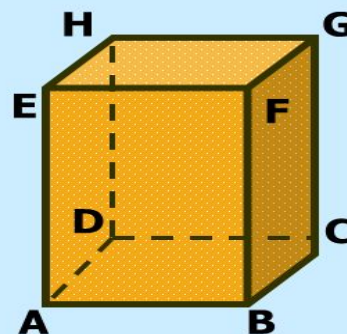
Matematyka klasa 4. Lekcja 27-28. Temat: Opis prostopadłościanu.

Zapoznaj się z treścią filmu <https://youtu.be/5h9CyxzieDk>



Prostopadłościan ma:

- ◆ 8 wierzchołków
- ◆ 12 krawędzi
- ◆ 6 ścian



SZEŚCIAN

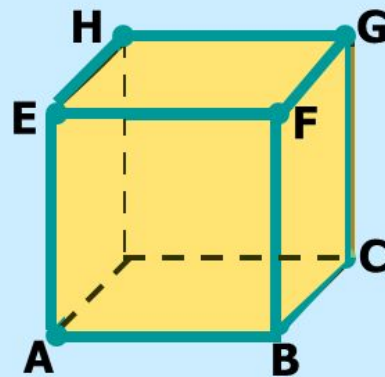
**Sześćcian jest
prostopadłościąnem.**

Sześćcian ma

8 wierzchołków

12 krawędzi

6 ścian



Wszystkie ściany sześćcianu są kwadratami.
Z jednego wierzchołka wychodzą trzy krawędzie, które
są do siebie prostopadłe.

Zapoznaj się z materiałem ze stron 222,223,224,225 z podręcznika . Rozwiąż zadanie 1 strona 225, zadanie 2,3,4 ze strony 226 z podręcznika. Rozwiązania zapisz w zeszycie przedmiotowym.