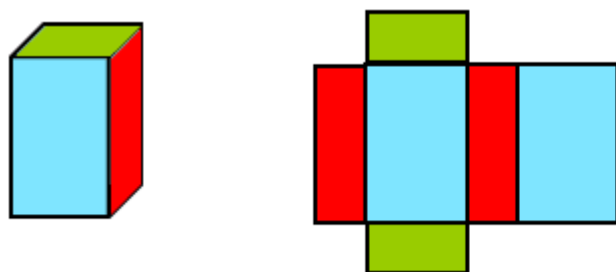
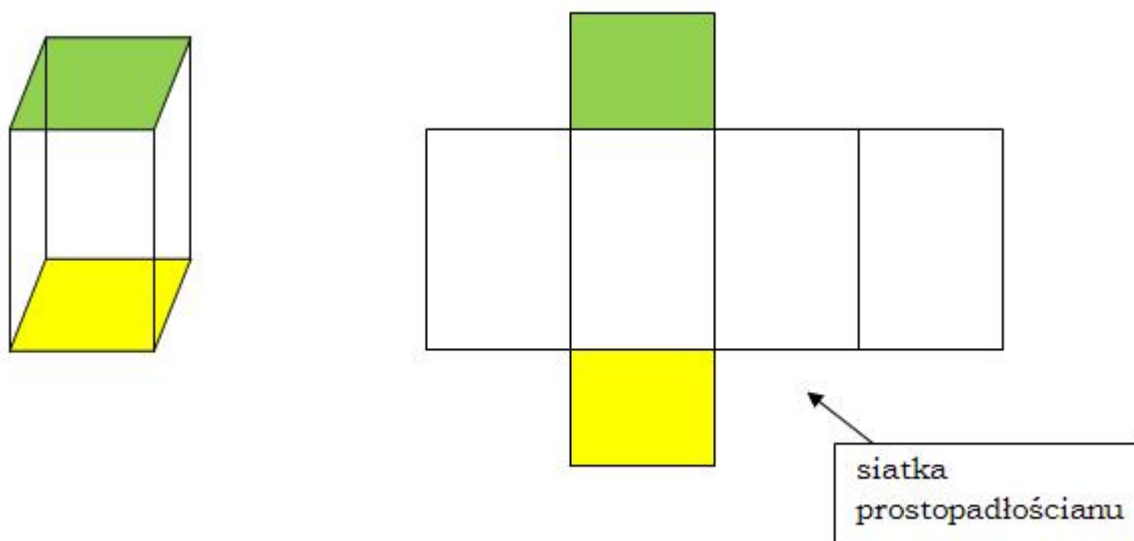


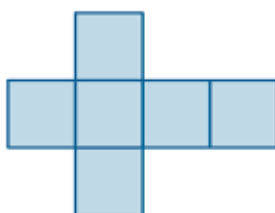
Matematyka klasa 4. Lekcja 29-30. Temat: Siatki prostopadłościanów.

Zapoznaj się z treścią filmu <https://youtu.be/6WBQAXB6ZAw>

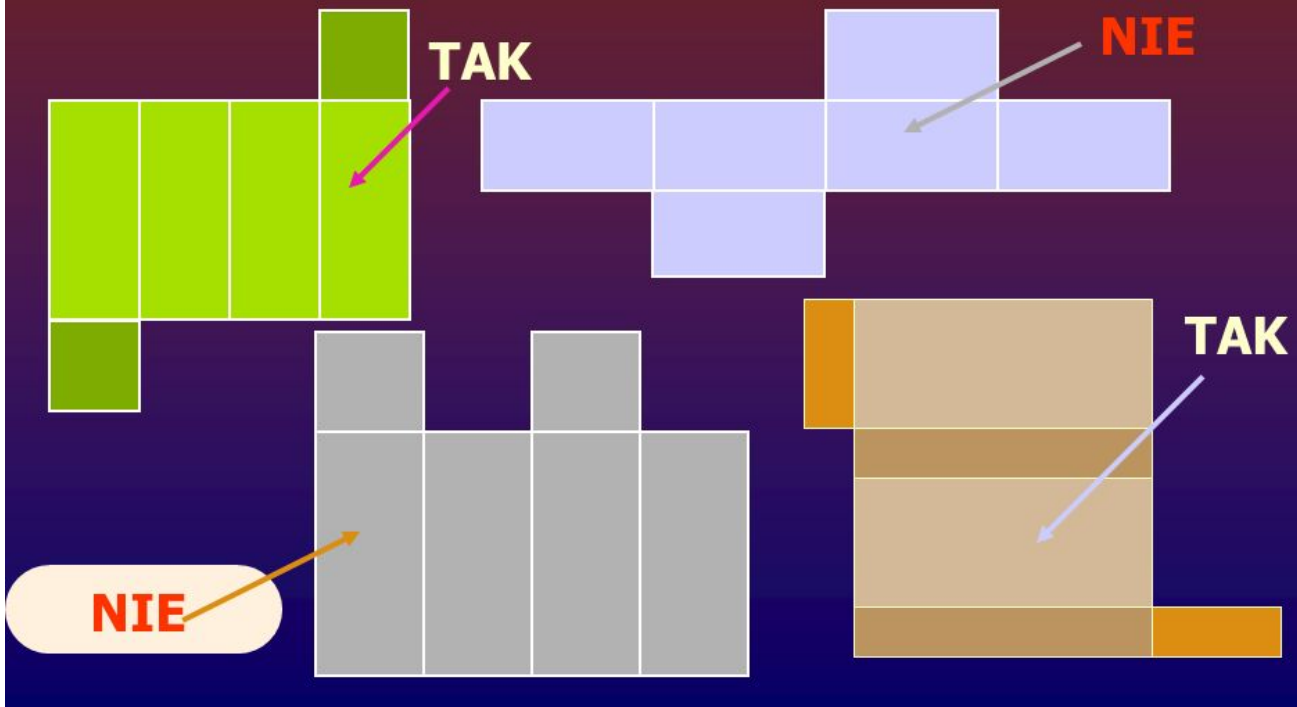
Po rozcięciu powierzchni prostopadłościanu wzdłuż kilku krawędzi i rozłożeniu go na powierzchnię płaską powstanie jego **siatka**. Jest to wielokąt złożony z prostokątów, czyli ścian graniastostłupa. Ten sam prostopadłościan może mieć kilka siatek.



Siatka sześcianu.



Czy z tych siatek można złożyć prostopadłościanu?



Zapoznaj się z materiałem z podręcznika ze stron 229,230. Rozwiąż zadanie 1,2,3 ze strony 231 z podręcznika. Rozwiązania zapisz w zeszycie przedmiotowym.