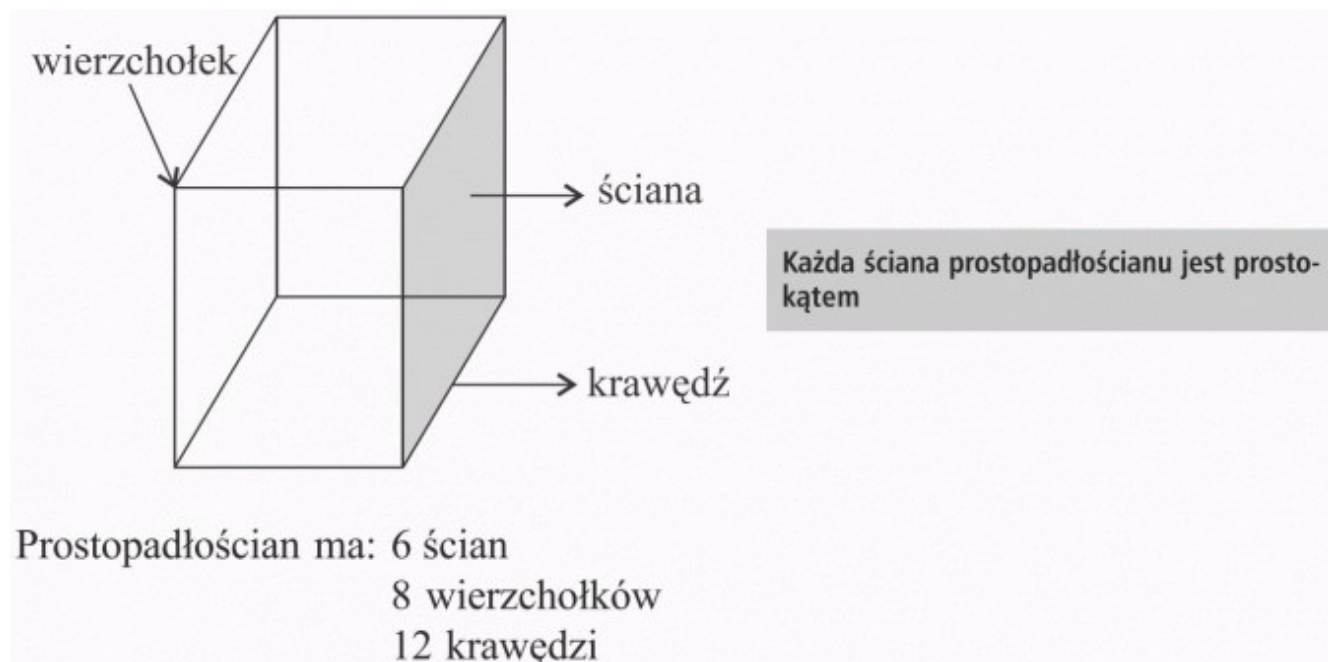


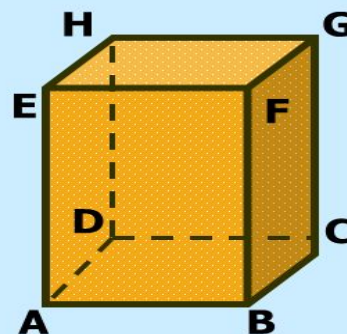
Matematyka klasa 5. Lekcja 30. Temat: Prostopadłościany i sześciany.

Zapoznaj się z treścią filmu <https://youtu.be/5h9CyxzieDk>



Prostopadłościan ma:

- ◆ 8 wierzchołków
- ◆ 12 krawędzi
- ◆ 6 ścian



SZEŚCIAN

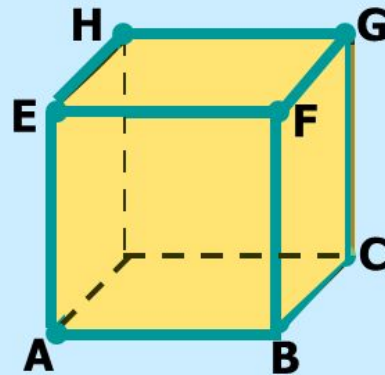
**Sześcián jest
prostópadołścianem.**

Sześcián ma

8 wierzchołków

12 krawędzi

6 ścian



Wszystkie ściany sześciánu sà kwadratami.
Z jednego wierzchołka wychodzą trzy krawędzi, które
sà do siebie prostopadłe.

Zapoznaj się z materiałem z podręcznika ze stron 224,225. Rozwiąż zadania 1,2,4 ze strony 225 z podręcznika. Rozwiązania zapisz w zeszycie przedmiotowym.