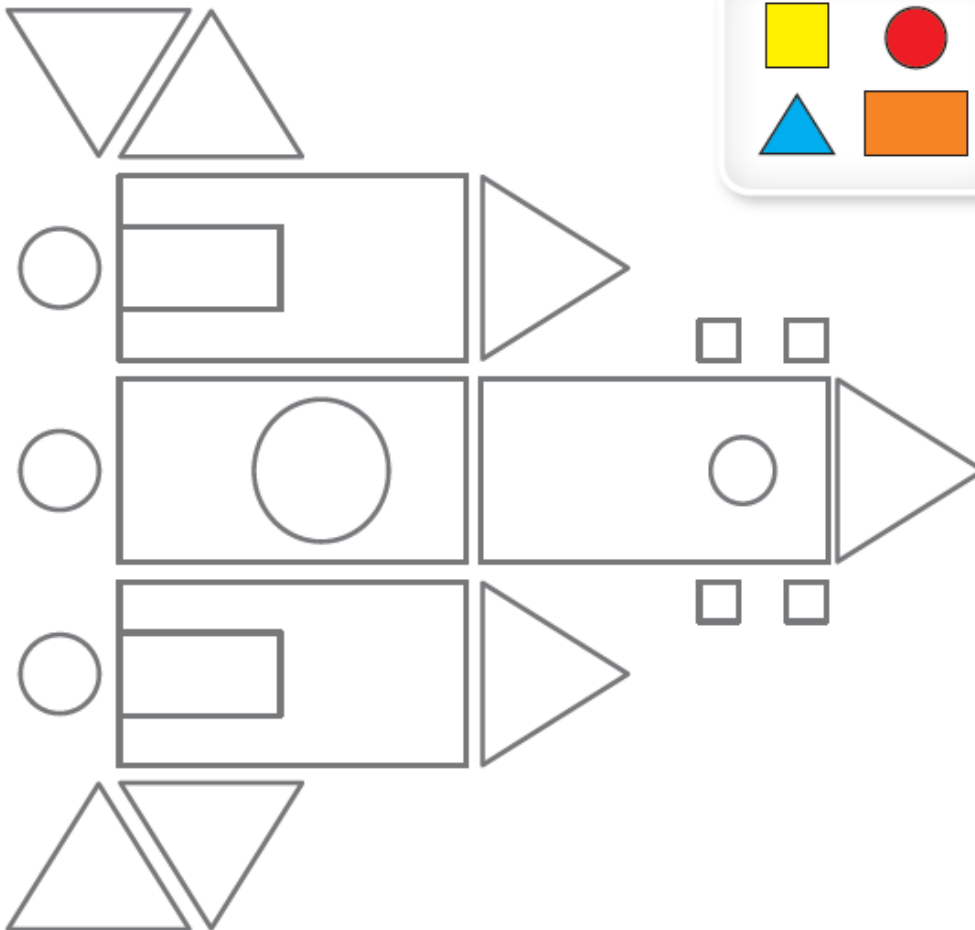




- Kuba narysował statek kosmiczny zbudowany z samych figur geometrycznych. Jednak nie zdążył go pokolorować. Pomóż mu w tym. Pokoloruj rysunek zgodnie z legendą



- Ile jest  ? Narysuj tyle kropek.
- Ile jest  ? Narysuj tyle kropek.
- Ile jest  ? Narysuj tyle kropek.
- Ile jest  ? Narysuj tyle kropek.

Zadanie opracowane na podstawie ćwiczenia Romana Bankiewicza z książki Skarby. Moja matematyka kl. 1, sem. 1, s. 79.

Narysuj obok kótek tyle samo zabawek ile jest kótek

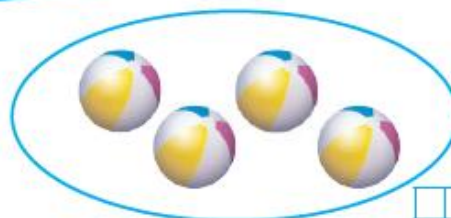

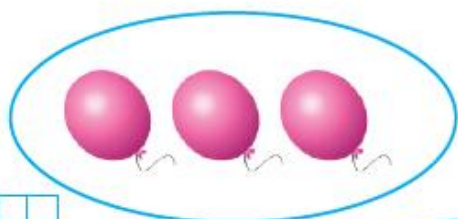




- Figo zaplanował włożyć po 3 książki do każdego pudełka. Skreśl lub dorysuj odpowiednią liczbę książek.

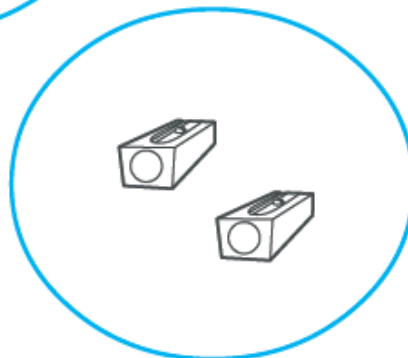


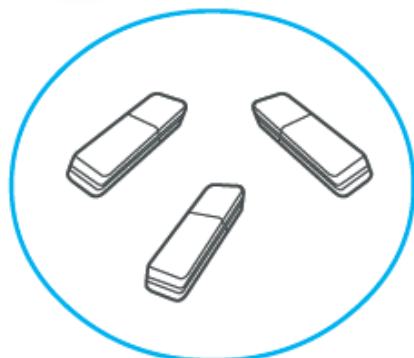


- Napisz, ile elementów jest w pętlach.





- Narysuj w okienkach po tyle kresek, ile jest przyborów szkolnych w pętłach. Połącz pętle tak, aby w każdej następnej był o jeden element więcej niż w poprzedniej.



- Pokoloruj przybory szkolne, których jest najwięcej.
- Otocz żółtą pętlą te przybory szkolne, których jest najmniej.