

Łamigłówka jest rozwiązana albo dobrze, albo źle.  
 Nie ma nic pośrodku.  
 Jeffery Deaver

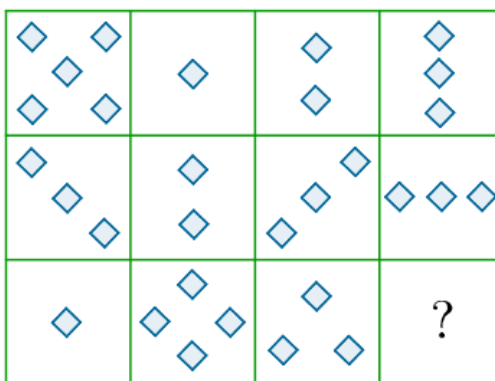
## Witajcie!

Dzisiaj kolejne zagadki rysunkowe w postaci zadań sprawdzających Twoją spostrzegawczość. Treści zadań dotyczą figur geometrycznych.

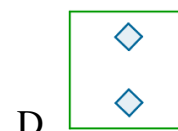
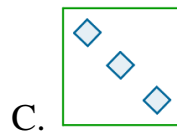
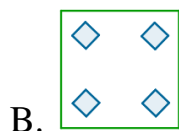
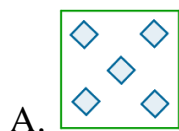
19.05.2020

## Zagadki rysunkowe - zadania na spostrzegawczość. (cz.II)


ZADANIE I. Który z poniższych kwadratów należy umieścić w polu ze znakiem zapytania?



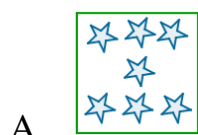
Źródło: Zespół autorski Politechniki Łódzkiej, licencja: CC BY 3.0.



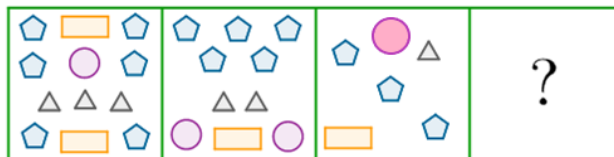
ZADANIE II. Który z poniższych kwadratów należy umieścić w polu ze znakiem zapytania?



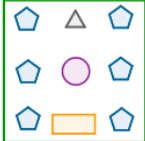
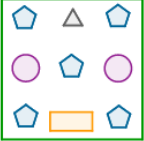
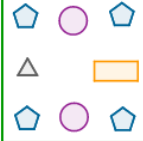
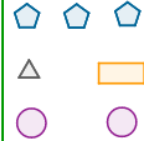
Źródło: Zespół autorski Politechniki Łódzkiej, licencja: CC BY 3.0.



ZADANIE III. Który z poniższych kwadratów należy umieścić w polu ze znakiem zapytania?



Źródło: Zespół autorski Politechniki Łódzkiej, licencja: CC BY 3.0.

- A. 
- B. 
- C. 
- D. 

**Podpowiedź do zadań I i II:**

Zastosuj jedno z działań (dodawanie, odejmowanie, mnożenie lub dzielenie) odnosząc się do liczby elementów w poszczególnych kwadratach w danym wierszu tabeli.

**Część podpowiedzi do zadania III:**

W każdym kwadracie porównaj liczbę pięciokątów z...

Rozwiązania zadań wyślij wiadomością na adres e-mail: [becherk69@gmail.com](mailto:becherk69@gmail.com).

**WYKORZYSTANE ZASOBY**

- <https://epodreczniki.pl/>

Powodzenia!  
Katarzyna Becher

