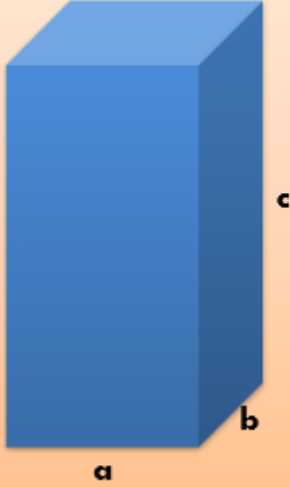


Matematyka klasa 5. Lekcja 37-38. Temat: Objętość prostopadłościanu.

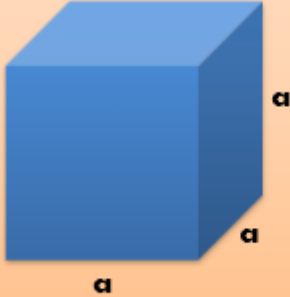
Zapoznaj się z treścią filmu <https://youtu.be/SAC3K9zJXc0>

Objętość prostopadłościanu o wymiarach a , b , c

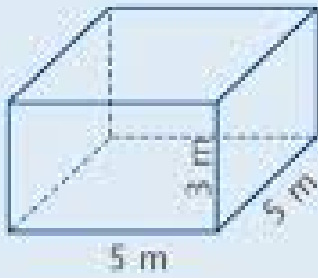
$$V = a \cdot b \cdot c$$


MATEMATYKA W PODSTAWÓWCE

Objętość sześcianu o krawędzi długości a

$$V = a \cdot a \cdot a = a^3$$


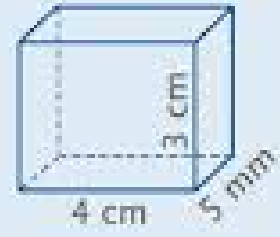
MATEMATYKA W PODSTAWÓWCE



$$5 \cdot 5 \cdot 3 = 75$$
$$V = 75 \text{ m}^3$$



$$5^3 = 125$$
$$V = 125 \text{ dm}^3$$



$$5 \text{ mm} = 0,5 \text{ cm}$$
$$4 \cdot 0,5 \cdot 3 = 6$$
$$V = 6 \text{ cm}^3$$

Zapoznaj się z materiałem z podręcznika ze strony 236. Rozwiąż zadania 1,2,3 ze strony 237 z podręcznika. Rozwiązania zapisz w zeszyte przedmiotowym.