

Łamigłówka jest rozwiązana albo dobrze, albo źle.  
Nie ma nic pośrodku.  
Jeffery Deaver

**Witajcie!**



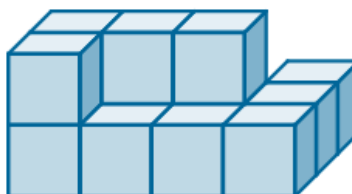
***Życzę Wam, aby Wasze dzieciństwo  
było jak najlepsze i aby trwało jak najdłużej!***

Dzisiaj zagadki rysunkowe w postaci zadań sprawdzających Twoją spostrzegawczość.

02.06.2020

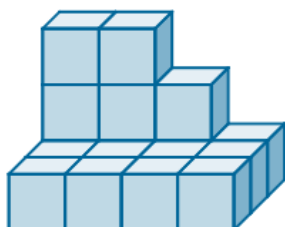
**TEMAT: *Zadania na spostrzegawczość. (cz.I)***

ZADANIE I. Figura zbudowana jest z 13 jednakowych sześcianów.

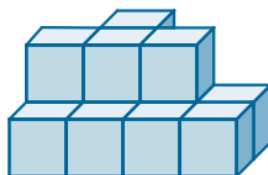


Źródło: Zespół autorski Politechniki Łódzkiej, licencja: CC BY 3.0.

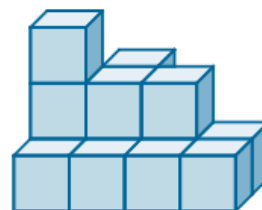
W figurze tej dwa sześciany przestawiono w inne miejsce. Który z poniższych rysunków przedstawia nową figurę? Wskaż prawidłową odpowiedź.



A.

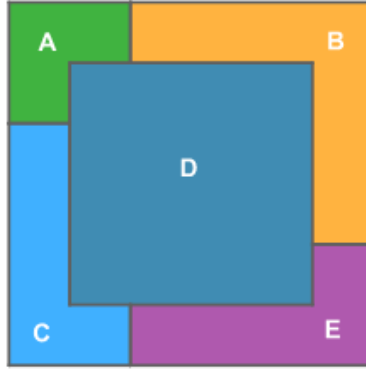


B.



C.

ZADANIE II. Pięć jednakowych kwadratów ułożono jeden na drugim tak, jak pokazano na rysunku.



Źródło: Zespół autorski Politechniki Łódzkiej, licencja: CC BY 3.0.

Który z nich leży na samym spodzie? Wskaż prawidłową odpowiedź.

E

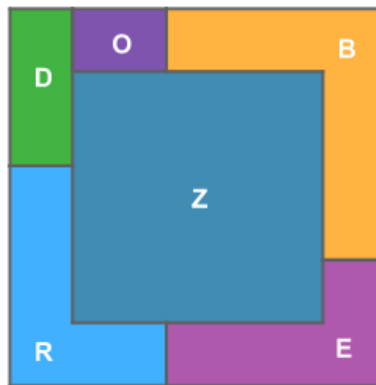
A

D

B

C

ZADANIE III. Sześć jednakowych kwadratów ułożono jeden na drugim tak, jak pokazano na rysunku. Wymień je po kolei, zaczynając od leżącego na wierzchu.



Źródło: Zespół autorski Politechniki Łódzkiej, licencja: CC BY 3.0.

Odpowiedź: ....., ....., ....., ....., .....

Rozwiązania zadań wyślij wiadomością na adres e-mail: [becherk69@gmail.com](mailto:becherk69@gmail.com).

Dziękuję

WYKORZYSTANE ZASOBY

➤ <https://epodreczniki.pl/>

Powodzenia!

Katarzyna Becher

