

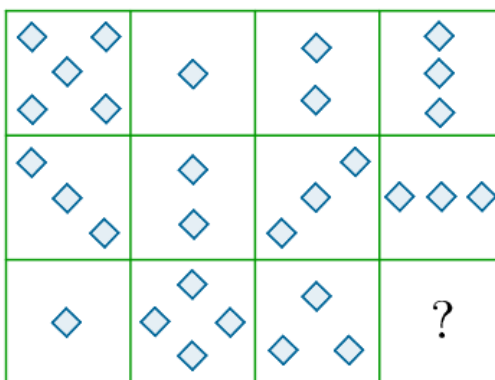
Witaj!

Dzisiaj kolejne zagadki rysunkowe w postaci zadań sprawdzających Twoją spostrzegawczość.

09.06.2020

TEMAT: Zadania na spostrzegawczość. (cz.II)


ZADANIE I. Który z poniższych kwadratów należy umieścić w polu ze znakiem zapytania?



Źródło: Zespół autorski Politechniki Łódzkiej, licencja: CC BY 3.0.

- A. B. C. D.

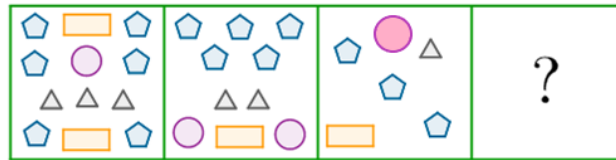
ZADANIE II. Który z poniższych kwadratów należy umieścić w polu ze znakiem zapytania?



Źródło: Zespół autorski Politechniki Łódzkiej, licencja: CC BY 3.0.

- A. B. C. D.

ZADANIE III. Który z poniższych kwadratów należy umieścić w polu ze znakiem zapytania?



Źródło: Zespół autorski Politechniki Łódzkiej, licencja: CC BY 3.0.

- A. 
- B. 
- C. 
- D. 

Podpowiedź do zadań I i II:

Zastosuj jedno z działań (dodawanie, odejmowanie, mnożenie lub dzielenie) odnosząc się do liczby elementów w poszczególnych kwadratach w danym wierszu tabeli.

Część podpowiedzi do zadania III:

W każdym kwadracie porównaj liczbę pięciokątów z...

Rozwiązania zadań wyślij wiadomością na adres e-mail: becherk69@gmail.com.

Dziękuję

WYKORZYSTANE ZASOBY

➤ <https://epodreczniki.pl/>

Powodzenia!

Katarzyna Becher

